
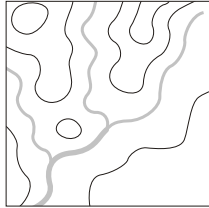






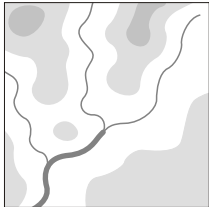


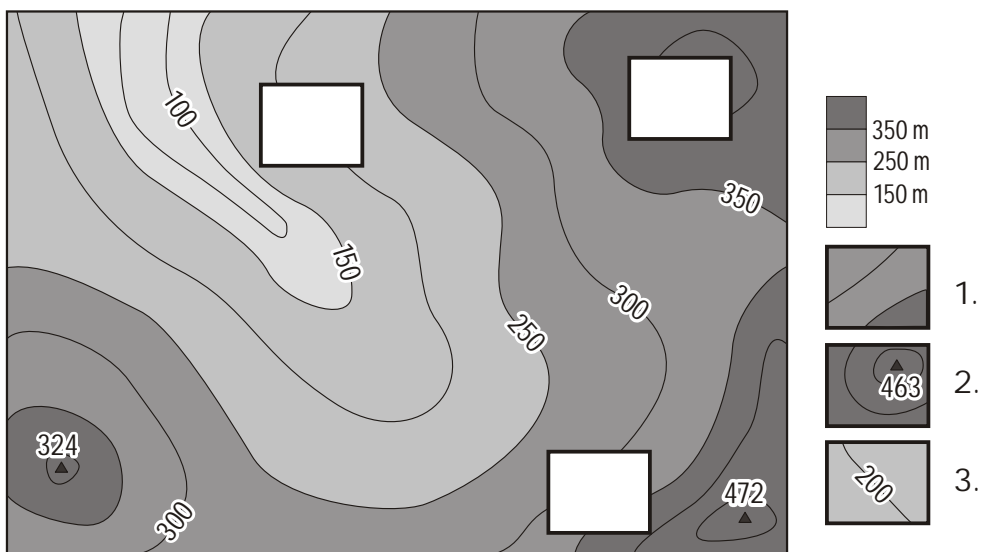
Életkor: _____ Nem: _____

Iskola: _____

1. Kösd össze egymással az azonos felszínformát ábrázoló rajzokat és elnevezéseit!

Magashegység			
Középhegység			
Dombság			

2. Írd be az üres téglalapokba a megfelelő részletek számát!



Az egyik hegycsúcs magasságát rosszul adtuk meg. Jelöld meg a térképen melyik az!
Indokold meg néhány szóban a döntésedet, és becsüld meg a magasságát!

.....

.....

.....

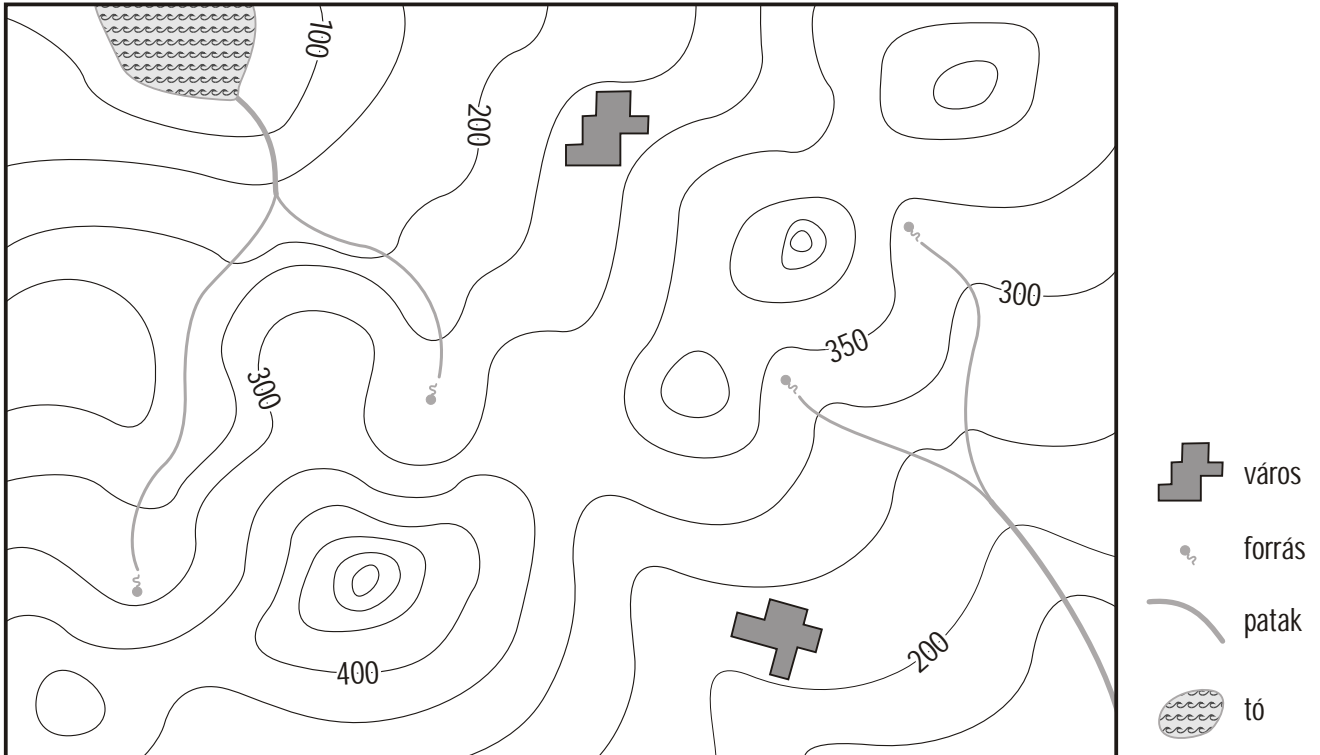
.....

A csúcs magassága m és m között van.

3. Jelöld meg a térképen:

- a legmagasabb pontot egy csillaggal,
- a hegység gerincvonalát egy vonallal
- a patakok folyásirányát egy-egy nyíllal!


Rajzold meg szaggatott vonallal a két város között azt a legrövidebb útvonalat, amelyik elkerüli a közeli hegyeket!



4. A színes térkép alapján válaszolj a következő kérdésekre:

Milyen színnel kellene kitölteni a fehérrel ábrázolt területet?

.....



Melyik égtáj felé (észak, dél, nyugat vagy kelet) néz a sziget legmeredekebb oldala?

.....
.....

Jelöld egy nyíllal a térképen is!

Milyen mély a tenger a két szaggatott vonal közti területen?

A szaggatott vonalak közti területen a mélység m és m között van.

Ha valamely kérdésre nem tudtál válaszolni, jelöld meg az okát:

- Nem értem a kérdést Értem a kérdést, de nem tudom értelmezni a térképet

Egyéb: _____